

NE RIEN ÉCRIRE DANS CE CADRE

MINISTÈRE DE L'ÉDUCATION NATIONALE

Académie : _____ Session : _____

Concours : _____

Spécialité/option : _____ Repère de l'épreuve : _____

Intitulé de l'épreuve : _____

NOM : _____

(en majuscules, suivi s'il y a lieu, du nom d'épouse)

Prénoms : _____ N° du candidat

(le numéro est celui qui figure sur la convocation ou la liste d'appel)

EFE GMM 2

Réponse question Q2-6	
Fonction Principale	Sous fonction Niveau 1
Sous ensemble associé	Sous fonction Niveau 1

Dégraisser des pièces mécaniques

Introduire ou sortir les paniers dans la chambre de travail

Table à rouleaux et tiroir d'introduction

DR 1

G

NE RIEN ÉCRIRE DANS CE CADRE

MINISTÈRE DE L'ÉDUCATION NATIONALE

Académie : _____ Session : _____

Concours : _____

Spécialité/option : _____ Repère de l'épreuve : _____

Intitulé de l'épreuve : _____

NOM : _____

(en majuscules, suivi s'il y a lieu, du nom d'épouse)

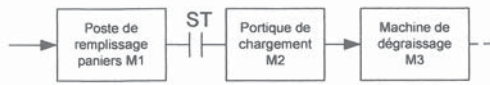
Prénoms : _____ N° du candidat

(le numéro est celui qui figure sur la convocation ou la liste d'appel)

EFE GMM 2

Zone à compléter

Question 2-3: Diagramme de fiabilité de la ligne



ST: Stock Tampon

Question 2-7:

%M1	%M2	%M3	%M4	%M5	%M6

Etat des bits %M1 à %M6 pour le programme de dégraissage N°22

%M1	%M2	%M3	%M4	%M5	%M6

Etat des bits %M1 à %M6 pour le programme de dégraissage N°25

Question 2-8: Evolutions pour le programme de dégraissage N°22:

X100	X101	X102	X103	X104	X105	X106	X107	X108	X109	X110	Tâche(s) Lancée(s)	Condition(s) d'évolution
X												X200
	X										T5 Charg. Chambre de travail	
X												

NE RIEN ÉCRIRE DANS CE CADRE

MINISTÈRE DE L'ÉDUCATION NATIONALE

Académie : _____ Session : _____

Concours : _____

Spécialité/option : _____ Repère de l'épreuve : _____

Intitulé de l'épreuve : _____

NOM : _____


Prénoms : _____

N° du candidat

(le numéro est celui qui figure sur la convocation ou la liste d'appel)

EFE GMM 2

STOCK DE DEPANNAGE (casses imprévisibles) $C_p = 20\%$



MINISTÈRE DE L'ÉDUCATION NATIONALE

Académie : _____ Session : _____

Concours : _____

Spécialité/option : _____ Repère de l'épreuve : _____

Intitulé de l'épreuve : _____

NOM : _____

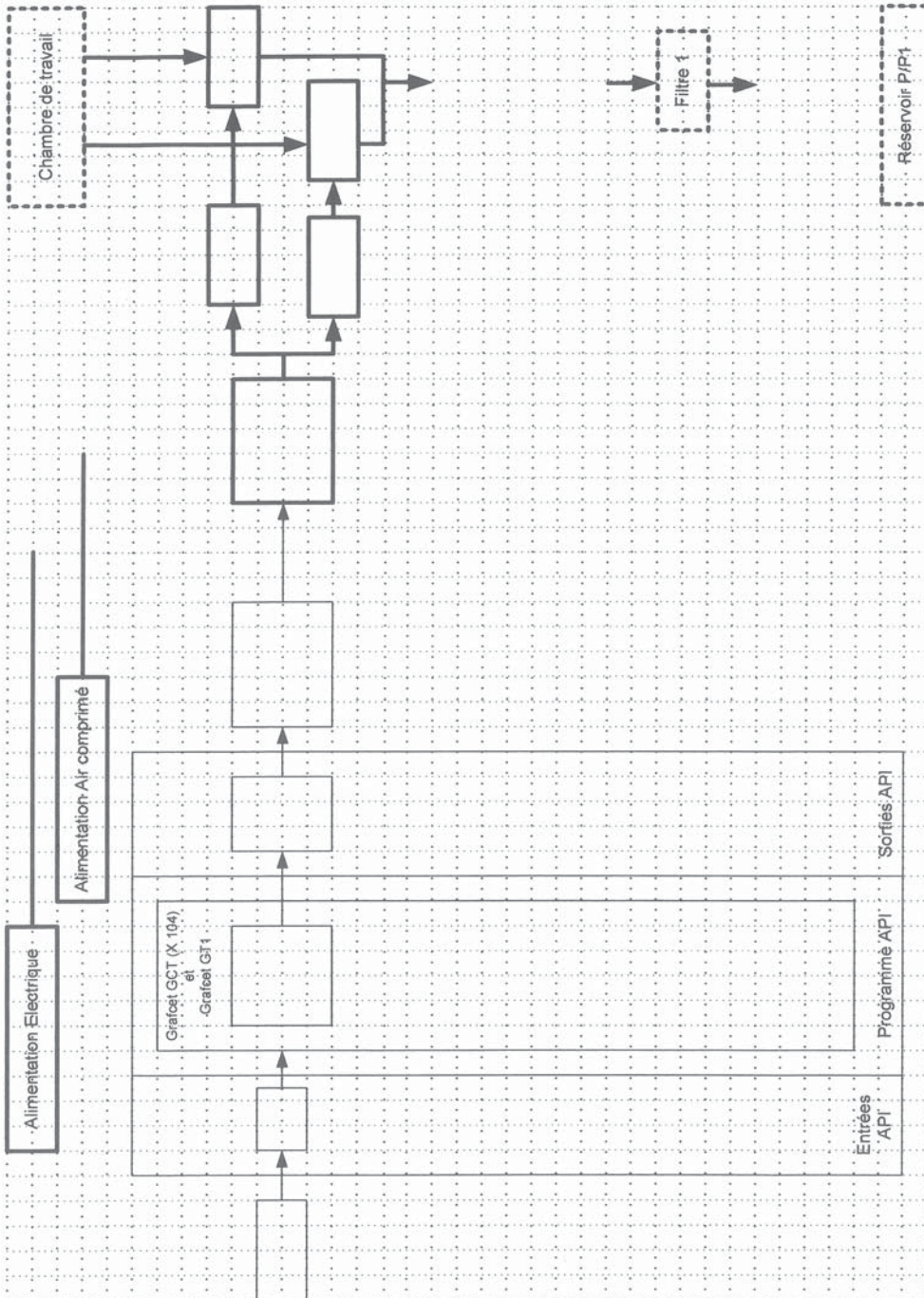
(en majuscules, suivi s'il y a lieu, du nom d'épouse)

Prénoms : _____ N° du candidat

(le numéro est celui qui figure sur la convocation ou la liste d'appel)

EFE GMM 2

Question 3-1: Schéma bloc de la chaîne fonctionnelle de vidange de la chambre de travail (Plein Bain)



NE RIEN ÉCRIRE DANS CE CADRE

MINISTÈRE DE L'ÉDUCATION NATIONALE

Académie : _____ Session : _____

Concours : _____

Spécialité/option : _____ Repère de l'épreuve : _____

Intitulé de l'épreuve : _____

NOM : _____

(en majuscules, suivi s'il y a lieu, du nom d'épouse)

Prénoms : _____ N° du candidat

(le numéro est celui qui figure sur la convocation ou la liste d'appel)

EFE GMM 2

Question 3-2: Hypothèses de défaillance du défaut moteur M26

N°	Hypothèses	Moyens de vérification	Hiérarchisation	
			1 ^{er} critère	2 ^{ème} critère
01	Moteur M26 hors service	Bruits et grognements de déséquilibre. Mesure des courants absorbés		
02				
03				
04				
05				
06				
07				
08				

1^{er} critère de classement :

2^{ème} critère de classement :

Question 3-3 : Objectif des fiches d'aide au diagnostic

.....
.....
.....

MINISTÈRE DE L'ÉDUCATION NATIONALE

Académie : _____ Session : _____

Concours : _____

Spécialité/option : _____ Repère de l'épreuve : _____

Intitulé de l'épreuve : _____

NOM : _____

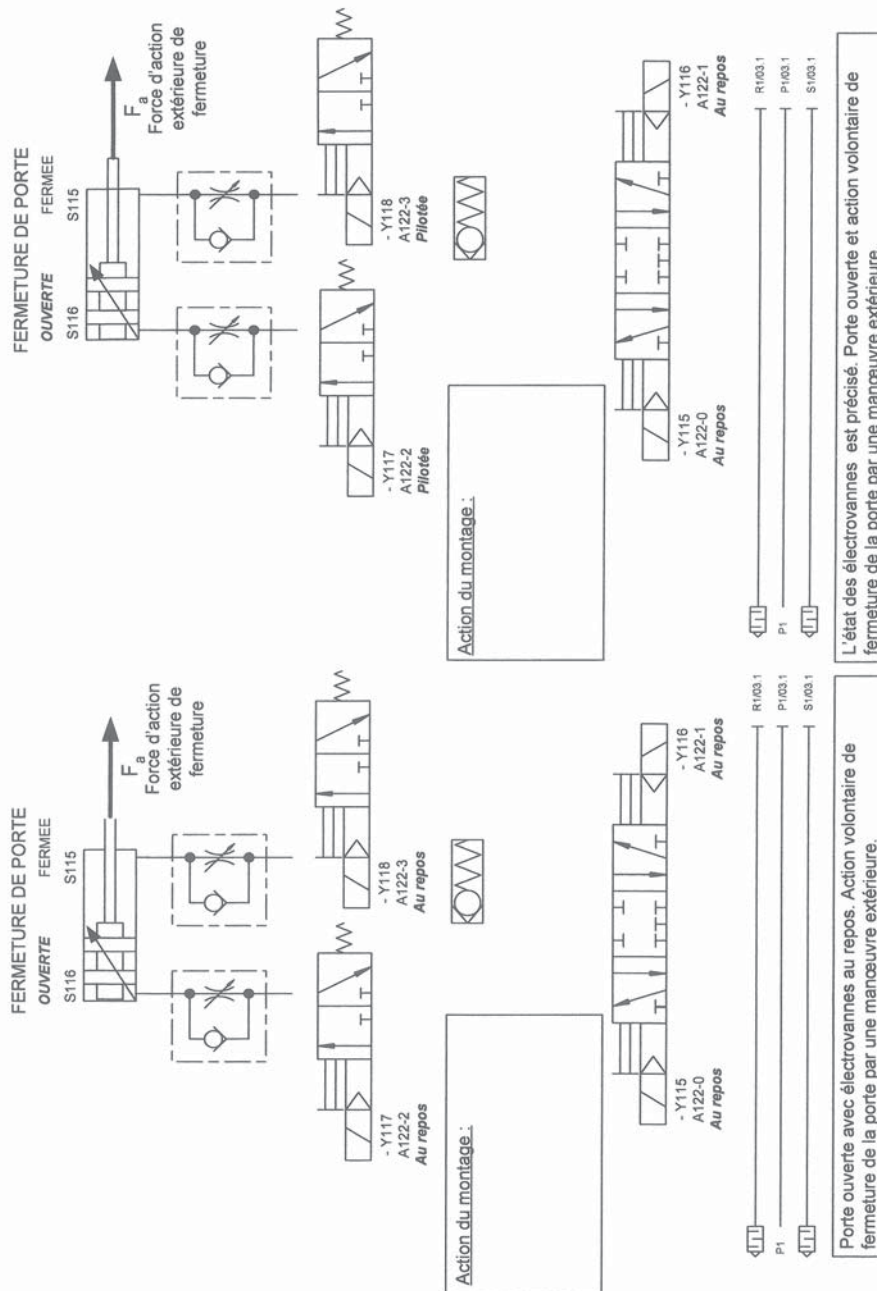
(en majuscules, suivi s'il y a lieu, du nom d'épouse)

Prénoms : _____ N° du candidat _____

(le numéro est celui qui figure sur la convocation ou la liste d'appel)

EFE GMM 2

Question 3-4 : Fonctionnement du système pneumatique de commande de porte



NE RIEN ÉCRIRE DANS CE CADRE

MINISTÈRE DE L'ÉDUCATION NATIONALE

Académie : _____ Session : _____

Concours : _____

Spécialité/option : _____ Repère de l'épreuve : _____

Intitulé de l'épreuve : _____

NOM : _____

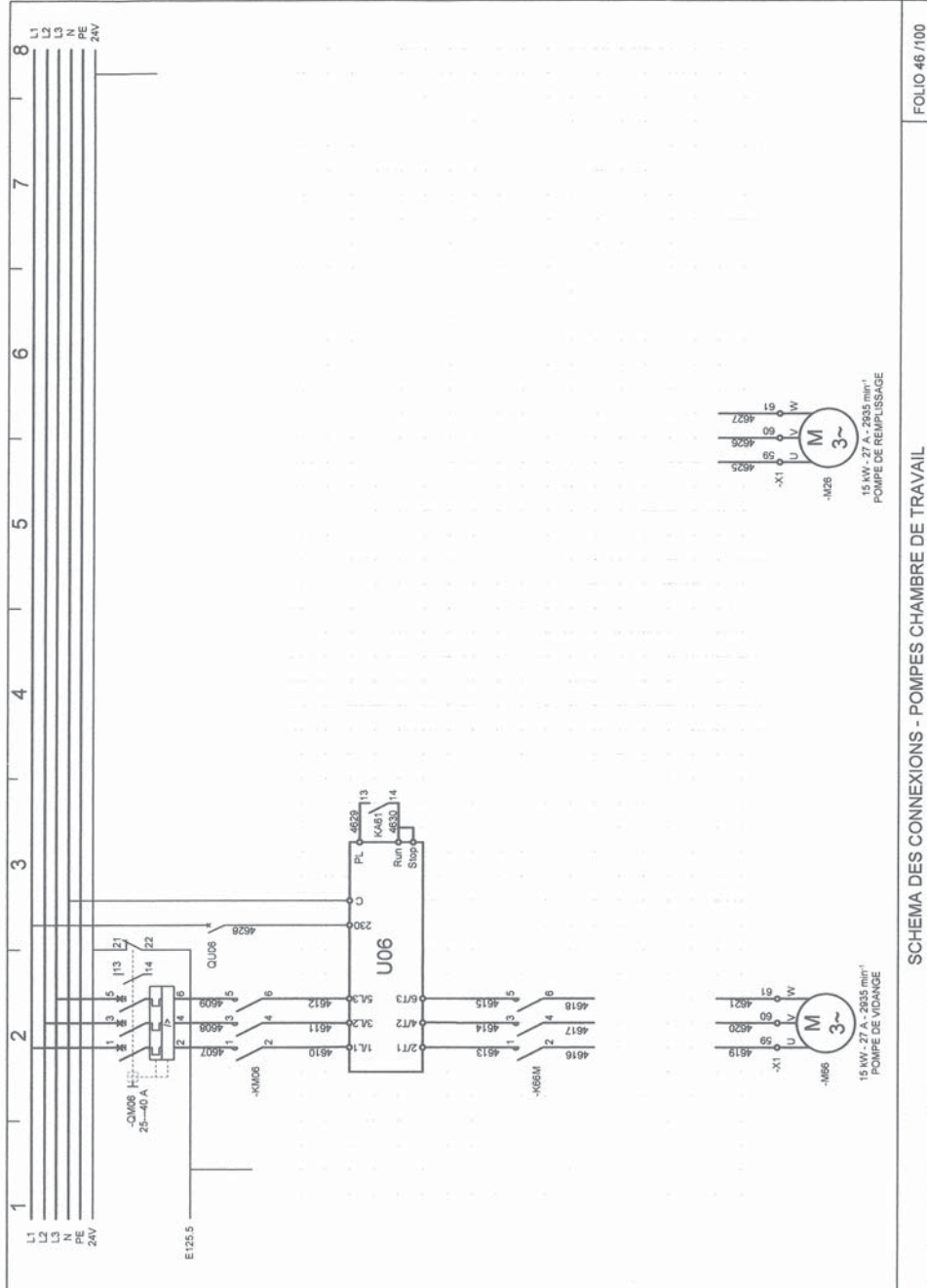
(en majuscules, suivi s'il y a lieu, du nom d'épouse)

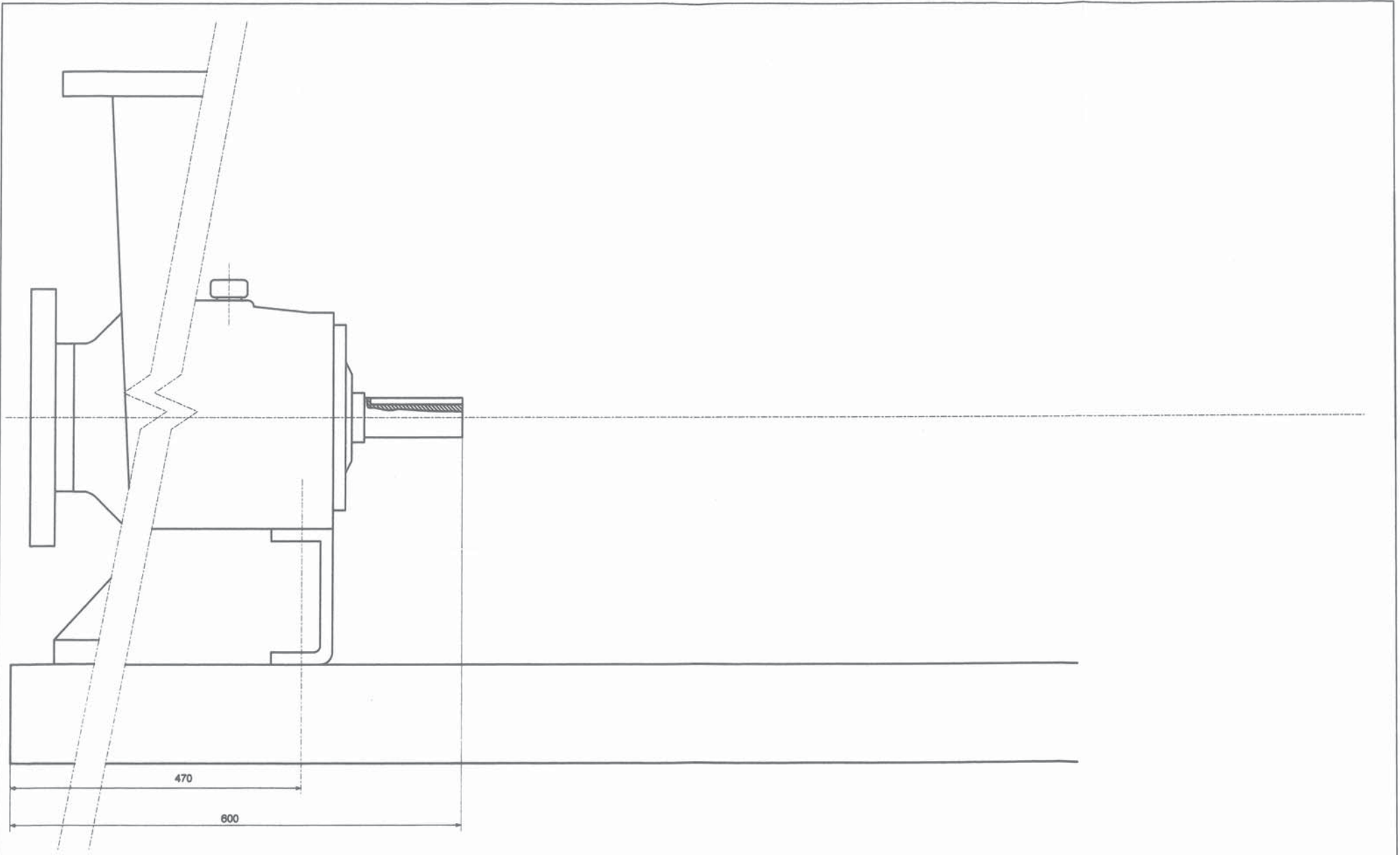
Prénoms : _____ N° du candidat _____

(le numéro est celui qui figure sur la convocation ou la liste d'appel)

EFE GMM 2

Question 4-6:





Echelle: 1/3	GROUPE POMPE DE VIDANGE CHAMBRE DE TRAVAIL MACHINE DE DEGRAISSAGE PERO	V 4 - W	
Modifié le:		Date:	Nom:
Plan n°	LIGNE DE TRAITEMENT BDCT	DR 8	
Réf Article:			